

Trójkąty konstrukcyjne

Karty nazywające figury utworzone z trójkątów konstrukcyjnych, łączonych ze sobą czarnymi bokami. Karty należy wydrukować dwustronnie, w ten sposób uzyskasz kartę z zadaniem i kontrolą błędu na odwrocie.

Wyłącznie na użytek własny niekomercyjny. Poniższy materiał ten nie może być udostępniany odpłatnie.



1

Zbuduj **prostokąt** używając 2 szarych trójkątów prostokątnych różnobocznych

1

Zbuduj **kwadrat** używając 2 zielonych trójkątów prostokątnych równoramiennych

1

Zbuduj **romb** używając 2 żółtych trójkątów równobocznych

1

Zbuduj **równoległobok** używając 2 zielonych trójkątów prostokątnych różnobocznych


1

Zbuduj **równoległobok** używając 2 żółtych trójkątów prostokątnych równoramiennych

1

Zbuduj **równoległobok** używając 2 żółtych trójkątów prostokątnych różnobocznych

kwadrat




prostokąt



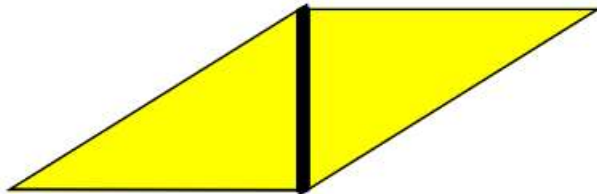
równoległobok




romb



równoległobok



równoległobok



1

Zbuduj **trapez** używając 1 czerwonego trójkąta rozwartokątnego różnobocznego oraz 1 czerwonego trójkąta ostrokątnego różnobocznego

3

Znajdź **trójkąt** szary równoboczny

3

Zbuduj **trójkąt** używając 2 zielonych trójkątów prostokątnych różnobocznych

3

Zbuduj **trójkąt** używając 3 żółtych trójkątów rozwartokątnych równoramiennych

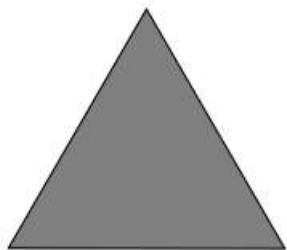
3

Zbuduj **trójkąt** używając 4 czerwonych trójkątów równobocznych


4

Zbuduj **romb** używając 2 czerwonych trójkątów rozwartokątnych równoramiennych

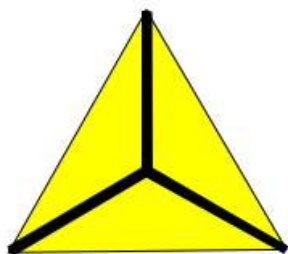
trójkąt równoboczny




trapez



trójkąt równoboczny




trójkąt równoboczny



romb



trójkąt równoboczny



4



Zbuduj **równoległobok** używając 2 szarych trójkątów rozwartokątnych równoramiennech

4



Znajdź **trójkąt** żółty równoboczny

4



Zbuduj **sześciokąt** używając 1 żółtego trójkąta równobocznego i 3 żółtych trójkątów rozwartokątnych równoramiennech

4



Zbuduj **trójkąt** obracając 3 żółte trójkąty rozwartokątne równoramienne do środka

4




Zbuduj **sześciokąt** używając 6 żółtych trójkątów rozwartokątnych równoramiennech

5



Znajdź duży **trójkąt** równoboczny.

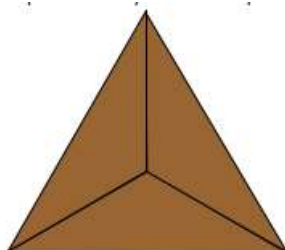
trójkąt równoboczny



równoległobok




trójkąt równoboczny



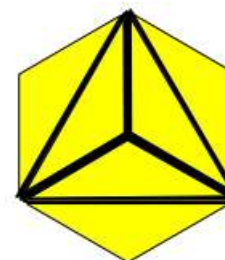
sześciokąt



trójkąt równoboczny



sześciokąt



5



Zbuduj **3 romby** używając po 2 czerwone trójkąty rozwartokątne równoramienne

5



Znajdź **romb** używając 2 czerwonych trójkątów równobocznych

5



Zbuduj **trapez** używając 3 zielonych trójkątów równobocznych

5



Zbuduj **sześciokąt** używając 6 szarych trójkątów równobocznych

5




Zbuduj **2 trapezy** używając po 3 szare trójkąty równoboczne

5




Zbuduj **3 romby** używając 6 szarych trójkątów równobocznych

romb




romby



sześciokąt



trapez



romby



trapez

